

Оренбургская областная олимпиада школьников 5-8 классов  
2024-2025 учебного года

ШИФР 400046-10

Муниципальный этап  
Оренбургской областной олимпиады школьников 5-8 классов  
2024-2025 учебного года

по географии

5 класс

ФАМИЛИЯ Кривцов

ИМЯ Константин

ОТЧЕСТВО Викторович

РАЙОН (ГОРОД) Сель-Шелецкий м.о.

ОБЩЕОБРАЗОВАТЕЛЬНАЯ ОРГАНИЗАЦИЯ МОУ "Школьная СОШ"

СТАТУС НАЛИЧИЯ ГРАЖДАНСТВА РФ (ДА/НЕТ)

УЧИТЕЛЬ Сыкова З.Ж.

ШИФР 400046

**ЗАДАНИЯ МУНИЦИПАЛЬНОГО ЭТАПА ОРЕНБУРГСКОЙ  
ОБЛАСТНОЙ ОЛИМПИАДЫ ШКОЛЬНИКОВ 5-8 КЛАССОВ ПО  
ГЕОГРАФИИ 5 класс**

**Время выполнения задания – 120 минут (2 часа)**

Добрый день! Дорогие ребята, мы приветствуем вас на муниципальном этапе Оренбургской областной олимпиады школьников 5-8 классов. Прежде чем приступить к работе, внимательно прочитайте инструкцию. При выполнении заданий можно использовать измерительные инструменты: линейки, транспортиры, циркули, калькуляторы. Необходимо напомнить порядок проведения: Участникам олимпиады запрещается: использовать для записи решений авторучки с красными или зелеными чернилами, карандаш; Обращаться с вопросами к кому-либо, кроме дежурных и членов оргкомитета; Проносить в классы тетради, справочную литературу, учебники, любые электронные устройства, служащие для передачи, получения или накопления информации.

Задания муниципального этапа олимпиады состоят из двух частей.

Первая часть – тестовая, а вторая – географические задачи.

Тесты представлены заданиями закрытого типа:

- Задания с выбором одного правильного ответа из нескольких предложенных
- Множественного выбора, когда вам из предложенных вариантов ответа нужно выбрать несколько правильных
- Установления последовательности, когда вам нужно предложенные ответы расположить в определенном порядке
- Установления соответствия, когда вам нужно из двух (или более) групп понятий или объектов выбрать связанные по какому-либо критерию.

Вторая часть – географические задачи – предполагает свободный ответ

**Тестовая часть**

1. Из данного списка выберите только материк 4б  
 а) Европа  
 б) Америка  
с. Австралия  
 д) Антарктида  
 е) Евразия  
 ф) Африка
2. Самый верхний слой Земли называется 1б  
а. Ядро  
 б) Мантия  
с. Земная кора  
d. Магма
3. Как называется параллель, которая делит земной шар на Северное и Южное полушарие? 1б  
 а.) Нулевой меридиан  
 б. Линия перемены дат  
 с.) Экватор

МУНИЦИПАЛЬНЫЙ ЭТАП ОРЕНБУРГСКОЙ ОБЛАСТНОЙ ОЛИМПИАДЫ ШКОЛЬНИКОВ 5-8 КЛАССОВ

- b. Северо-восток  
 c. Восток **05**  
 d. Юго-восток

13. Установите соответствие между материками и расположенными на них реками, озерами и животными на них обитающими: (12 баллов)

Реки: А) Святого Лаврентия Б) Ориноко В) Лимпопо Г) Дунай

Озера: А) Женевское Б) Верхнее В) Титикака Г) Виктория

Животные: А) Панда Б) Ягуар В) Пятнистая гиена Г) Бизон

| Материки         | Реки        | Озера       | Животные    |
|------------------|-------------|-------------|-------------|
| Евразия          | Г <b>10</b> | А <b>10</b> | Г <b>05</b> |
| Южная Америка    | Б <b>10</b> | В <b>10</b> | Б <b>10</b> |
| Африка           | В <b>10</b> | Г <b>10</b> | В <b>10</b> |
| Северная Америка | А <b>10</b> | Б <b>10</b> | А <b>05</b> |

14. Вставьте в текст песни пропущенные слова из предложенного списка: 3б

Светит незнакомая звезда,  
 Снова мы оторваны от дома,  
 Снова между нами ... (1),  
 Взлётные огни аэродромов.  
 Здесь у нас... (2) и ... (3),  
 Здесь у нас холодные рассветы.  
 Здесь на неизведанном пути  
 Ждут замысловатые сюжеты.

А- моря; Б- города; В- пустыни; Г- дожди; Д- снег; Е- туманы; Ж - смерчи

| 1             | 2             | 3             |
|---------------|---------------|---------------|
| В Б <b>10</b> | Д Е <b>10</b> | Ж Г <b>10</b> |

15. Выберите самую длинную параллель: 1б


- a.  $80^{\circ}$  с.ш.  
 б.  $20^{\circ}$  ю.ш **10.**  
 c.  $40^{\circ}$  с.ш.  
 d.  $60^{\circ}$  ю.ш.

16. Дальше всего от начального меридиана расположена точка с координатами: 1б


- a.  $23^{\circ}$  с.ш.  $11^{\circ}$  в.д.  
 б.  $79^{\circ}$  ю.ш.  $1^{\circ}$  з.д.  
 c.  $41^{\circ}$  ю.ш.  $96^{\circ}$  з.д. **10**  
 d.  $5^{\circ}$  с.ш.  $111^{\circ}$  в.д.

17. Какой географический объект на снимке с международной космической станции? 1б

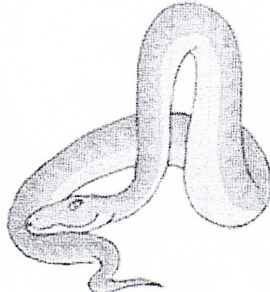
- a. О. Новая Зеландия **05**  
 б. О. Новая Земля  
 c. Апеннинский полуостров  
 d. Полуостров Флорида



18. Определите, что обозначается этими условными знаками на географических картах? 7б



1,2,4,3,2



M

Название города МАРК, Магсадам 36

На какой реке Сибирской тоз 46

Чем в основном торговали в этом городе? пушкисна 36

36  
46

36.

2. В 2024 году Ксения смогла отметить свой день рождения именно в тот день, когда она родилась. Но сделала она это всего лишь 3-й раз за всю жизнь, хотя учится девочка в 5-м классе. Как называется год, в который родилась Ксения? Сколько лет девочке, и в каком году, какого числа и какого месяца она родилась?

Как называется год высокоосный год 36

Сколько лет Ксении 11 46

Год, число и месяц рождения 2013. 29. 02 46

36.  
06

46.

3. Если спросить у тебя, чем отличаются друг от друга, например птицы и рыбы, ты наверняка скажешь, что птицы летают, а рыбы плавают. И это будет правильно, но не совсем. Потому что есть птицы, которые не умеют летать. Например, такие птицы есть в Австралии и Океании. Назовите таких птиц, не менее 2-х, одну обитательницу материка, вторую – родом из Океании.

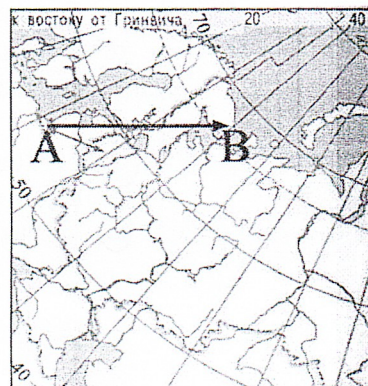
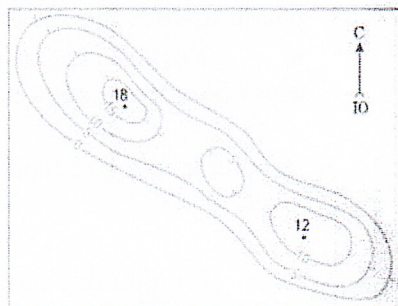
Материковая птица никвипи ~~китовая~~ никвипи 36

С островов Океании никвипи ~~китовая~~ стриус 36








06  
06.

4. Выполните задания по карте.

- d. Полярный круг
4. Самое глубокое озеро планеты 16  
 a. Гурон  
 b. Ладожское  
 c. Танганьика  
 d. Байкал 16
5. В каких полушариях находится Южная Америка? 36  
 a. в Северном;  
 b. в Западном;  
 c. в Южном 16  
 d. в Восточном.
6. Самые большие запасы пресной воды сосредоточены в: 16  
 a. озерах;  
 b. реках;  
 c. подземных водах; 06  
 d. ледниках.
7. Если встать лицом к югу, то в какой стороне будет находиться восток? 16  
 a. Слева  
 b. Справа 06  
 c. Сзади  
 d. Спереди
8. Расположите названные планеты по степени их удаленности от Солнца (начиная с ближней) (5 баллов)  
 a. Сатурн  
 b. Марс  
 c. Земля  
 d. Уран  
 e. Венера
- |         |         |         |         |         |
|---------|---------|---------|---------|---------|
| 1- e 16 | 2- b 06 | 3- c 06 | 4- d 16 | 5- a 16 |
|---------|---------|---------|---------|---------|
9. Выберите правильные утверждения (2 балла) 26  
 a. Южная Америка и Австралия омываются водами двух океанов.  
 b. Северное море является частью Северного Ледовитого океана.  
 c. Атлантический океан – самый холодный из океанов.  
 d. Берега Африки омываются водами всех океанов, кроме Северного Ледовитого
10. Сколько вершин у холма? 16  
 a. Одна 06  
 b. Две  
 c. Три  
 d. Нет правильного ответа
11. Через территорию какого из перечисленных ниже государств проходит нулевой меридиан? (2 балла) 16  
 a. Россия  
 b. США  
 c. Франция 16  
 d. Китай
12. Какому направлению на местности соответствует направление А-Б на карте 16  
 a. Север



МУНИЦИПАЛЬНЫЙ ЭТАП ОРЕНБУРГСКОЙ ОБЛАСТНОЙ ОЛИМПИАДЫ ШКОЛЬНИКОВ 5-8 КЛАССОВ

| Условный знак   | Что им обозначают         |
|---|---------------------------|
|  | озеро 15                  |
|  | кустарники 15             |
|  | мш 15 поле                |
|  | обрыв 15                  |
|  | обрыв 15                  |
|  | <del>деревья</del> лес 15 |
|  | леса 15                   |

19. Какие из перечисленных ниже островов находятся в Северном Ледовитом океане? (3 балла)

- a. Ява
- b. Новая Зеландия
- c. Новая Земля 15
- d. Врангеля
- e. Баффинов Земля
- f. Алеутские острова
- g. Гавайские острова

20. В этом древнем государстве считалось, что небо имеет форму круга, а земля — квадрата. В середине квадрата лежит центр мира — их Срединное государство (Поднебесная империя). Лишь оно находится под небесным покровительством. Что это за государство? 15

- a. Древняя Греция 05
- b. Карфаген
- c. Египет
- d. Китай
- e. Вавилон

356.

**Географические задачи**

1. Разгадав **ребус**, назови первый русский город за Полярным кругом и в Восточной Сибири, основанный в 1601 году на высоком берегу сибирской реки как торговый центр.

1. Определите отметку высоты самой высокой точки участка? (1 балл)

2. Определите абсолютную высоту точек А и В? (1 балл)

3. Найдите относительную высоту точки А относительно точки В? (1 балл)

4. Какой участок отрезка АВ имеет большую крутизну склона? (1 балл)

5. Определите расстояние между точками А и В. (1 балл)

6. Можно ли увидеть колодец от дома лесника, почему? (2 балла)

7. Какой участок вы выберите для катания на санках, свой выбор обоснуйте, приведите не менее двух аргументов? (3 балла)

Масштаб 1: 10 000  
В 1 см 100 м  
Горизонталы проведены через 5 метров

Лес  
Вырубленный лес  
Кустарник  
Дом лесника  
Грунтовые и лесные дороги  
Колодец

1) 166.7 м 10  
2) 150 08  
3) 150 08  
4) 70 08  
5) 3,3 см = 330 м 08.  
6) нет нельзя то между ними гор 10.

и колодцы от друг от друга далеко около 500 м.

4) Я выберу от точки А до В потому что там склоны вниз. там не крутой, и не лесной, и легкий склон.

Итого: 548. из 848. 64%!

198.